



Ehi, bambini, lo sapete che a noi zucche piacciono tanto tanto i problemini-lampo? E a voi? Davvero? Allora ...partiamo subito!











Ieri mattina, nel campo, c'erano 31 zucche.
 Nel pomeriggio ne ho contate 23.
 Accipicchia! Chi le avrà prese?! Quante zucche sono sparite dal campo?
 Cerchia solo il risultato corretto.
 17 9 15 8
 Quale operazione hai eseguito?.....

Queste sono le zucche che ZuccaMath deve usare per creare Jack o' Lantern. Quante sono in totale? Quante decine?..... Quante unità?..... Elimina 18 unità con una x. Colora e conta solo le zucche rimaste. Sono in numero maggiore, minore o uguale a quelle eliminate?.....



Confronta ogni coppia e inserisci tra i due elementi il simbolo giusto
< minore = uguale > maggiore

			
<input type="text" value="21"/>	<input type="text" value="25"/>	;	<input type="text" value="17"/>
			
<input type="text" value="33"/>	<input type="text" value="16"/>	;	<input type="text" value="38"/>