


Aritmetizando nel fantastico mondo della famiglia Barbapapà!



Questa è la numerosa famiglia di Barbapapà e Barbabamma

Completa la linea dei numeri e le frasi:

Nella famiglia Barbapapà ci sono, in tutto,componenti.

Ci sonogenitori efigli.

I figli maschi sono uno in più delle femmine.

Se le femmine sono allora i maschi sono

I componenti di questa famiglia sono di meno o di più di una decina?

.....

Quanti in meno?.....

Quanti in più?.....

1-Completa la linea dei numeri sotto i figli di Barbabamma e Barbapapà

2-Barbabamma presenta i suoi figli. Completa sui puntini

Barbabella è al numero 5, che precede il e segue il....

Barbaforte è al numero 1, che precede il....e segue lo....

Barbabravo è al numero 6, che precede ile segue il....

Barbalalla è al numero 2, che segue ile precede il.....

Barbottina è al numero 7, che precede il.....e segue il

Barbabarba è al numero 4, che precede il.....e segue il.....

Barbazoo è al numero 3, che precede il e segue il.....





Per fare una bellissima sorpresa alla mamma e farla divertire anche un po', i suoi figli hanno inventato un gioco. Hanno portato la mamma in un prato e si sono trasformati in fiori che la mamma coglierà per fare un mazzolino.

Attenzione, però!

POTRÀ AVERE UN MAZZOLINO SOLO CON COPPIE (2 FIORI) CHE FORMANO IL NUMERO 20

UNISCI I NUMERI CON FRECCE DI COLORI DIVERSI




Hai potuto usare tutti i fiori? Sì No





Quanti gruppi da 2 fiori (coppie) hai formato, in tutto?

.....
Nel mazzolino di Barbamamma quanti fiori ci sono?

.....



E adesso?
Adesso tocca a te creare nuove avventure!
Colora, ritaglia, incolla, e....



Care mamme, cari bambini e care maestre, vi sono piaciute queste schede?

Se volete eliminare i colori, come già sapete, basta scegliere la modalità “stampa in scale di grigi”

Vi auguro una gioiosa festa! A presto!

