

# Buona FESTA Mamma Pig!

Tanti auguri!



## ARITMETICANDO con ... la simpatica famiglia PIG



La **festa della mamma** sta arrivando e Peppa e George non vedono l'ora di preparare qualcosa di speciale. Sicuramente non può mancare la torta, che dovrà essere veramente buona! Papà Pig propone di prepararla con l'aiuto dei nonni, a casa loro, così la mamma non sospetterà nulla. Peppa e George vanno al supermercato con Papà Pig per acquistare gli ingredienti. Lungo il percorso George e Peppa iniziano a bisticciare: non trovano un accordo sul tipo di torta con cui sorprendere la mamma. Papà Pig, allora, propone che ognuno faccia la propria torta. La proposta entusiasma sia Peppa sia George.

### Ingredienti per la torta che preparerà Peppa:



3 dischi di pan di Spagna



2 confezioni di panna liquida



1 bottiglia di latte



1 confezione di zucchero



5 uova



3 tavolette di cioccolato




1 bastoncino di vaniglia



1 confezione di pasta di zucchero

Prima di ripondere conta con attenzione **quanti sono in tutto** gli ingredienti di questa torta. Colora il sole con il numero esatto:



Le uova sono di **più** o **di meno** delle tavolette di cioccolato?

.....  
.....

Circonda, nell'elenco qui a fianco, il nome degli ingredienti con il numero più piccolo.

.....

Scrivi il nome degli ingredienti che hanno lo stesso numero:

.....  
.....  
.....  
.....



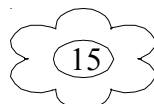

Adesso tocca a mio fratello George.  
Vediamo gli ingredienti per la sua torta!



4 dischi di pan di Spagna  
1 confettura di marmellata  
2 cestini di fragole  
1 bottiglietta di succo di ananas  
1 confezione di mascarpone  
5 uova  
1 confezione di pasta di zucchero

Conta **quanti sono in tutto** gli ingredienti della torta preparata da George.

Colora il fiore con il risultato esatto:



**Confronta** il numero degli ingredienti della torta preparata da Peppa con il numero degli ingredienti della torta preparata da George.

**Circonda** con un colore la torta in cui ci sono **meno** ingredienti:



Usa questi simboli , che conosci già, per **confrontare** ogni coppia di numeri nel rettangolo a sinistra: > = <

19.....11

10....10

13....9

7.....18

20....17

16....3

Completa con un numero adatto:

5 è minore di.....

11 è minore di.....

20 è maggiore di.....

13 è uguale a .....

18 è minore di .....

9 è maggiore di.....

13 è minore di.....

4 è minore di .....

0 è uguale a .....

0 è minore di .....

10 è minore di.....

Esegui queste operazioni:

0+10=.....

15-11=.....

20+0=.....

19+1=.....

12-6=.....

9+11=.....

9+9=.....

7-7=.....

16-10=.....

14-7=.....

CARE MAMME E CARE MAESTRE , VI SONO PIACIUTE QUESTE SCHEDE?

VI RICORDO ciò che già sapete:  
se volete le schede in bianco e nero scegliete la modalità di “stampa in scale di grigi”.

Vi saluto con affetto e simpatia.  
A presto! Auguri di buona festa a tutte !

