


Scoprirai le parole che "giocano a nascondino" con questo esercizio molto carino !
E' un testo scientifico, bada bene e non mancheranno piccole gradite sorprese!



Grazie maestro!
Eseguirò da solo questo interessantissimo lavoro!

..ECCO QUI : CONTINUA AD ALLENARTI ESEGUENDO A MENTE E MERITERAI IL TITOLO DI " SUPER CAMPIONE" PER SEMPRE! FANTASTICO!HOORAY!

MA LO SAPEVI CHE...!??!
SCOPRI DI CHI SI PARLA IN QUESTO TESTO CHE DEVI COMPLETARE TU. Si parla di

$4\ 995 : 5 =$

$3\ 996 : 4 =$

$8\ 997 : 3 =$

$3\ 998 : 2 =$

I $1792 : 2 =$ sono uccelli la maggior parte di

cui $5593 : 7 =$ al 90% in volo. Le $8082 : 9 =$

hanno le 4 dita in $2973 : 3 =$ In pratica non le usano

mai per $3972 : 4 =$ Chi $2490 : 5 =$

non riesce più $3176 : 8 =$ Si nutrono in aria di mosche

moscerini, $4491 : 9 =$ dormono in volo e si fermano solo per $1584 : 4 =$


nella bella stagione. Arrivano in Europa dall' Africa . Con il $1788 : 6 =$ ogni giorno,

salgono fino ad una altezza di circa due-tre chilometri. Sono capaci di trascorrere un periodo di volo quasi ininterrotto per ... 10 mesi! I giovani lasciano il nido e improvvisamente sanno volare!

ATTENZIONE! Esegui le divisioni e scrivi il QUOTO in penna rossa sotto l' operazione
Nel rettangolo scrivi la parola corrispondente : ci sono degli INTRUSI !

- 298 = CREPUSCOLO
- 896 = RONDONI
- 798 = PICCIONI
- 898 = ZAMPE
- 993 = CAMMINARE
- 799 = VIVE
- 396 = NIDIFICARE
- 991 = AVANTI
- 498 = CADE
- 499 = COLEOTTERI
- 199 = BERE
- 397 = a volare


m/a m.gabriella



m/a m.gabriella
www.tateefate.com


Ecco a voi , signore e signori,
sorprendenti DIVISIONI
per scoprire **GLI INVENTORI**
delle
INVENZIONI!

IL QUOZIENTE è l' anno dell' INVENZIONE
IL RESTO il nome dell' INVENTORE




109386 | 57

NOME:
ANNO:




117869 | 62

NOME:
ANNO:



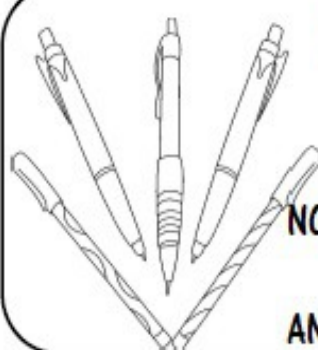
75703 | 39

NOME:
ANNO:



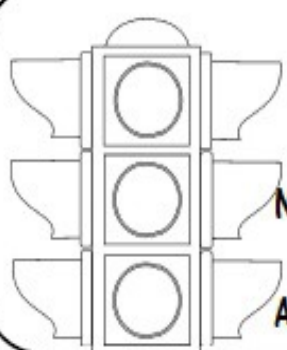
165737 | 84

NOME:
ANNO:




147669 | 76

NOME:
ANNO:




182693 | 95

NOME:
ANNO:



147670 | 23

NOME:
ANNO:



89814 | 48

NOME:
ANNO:



Esegui con cura
le divisioni
sul quaderno
Esegui anche la
prova: osserva
i dati seguenti e
trasferiscili in penna
rossa sulla scheda
Buon lavoro!





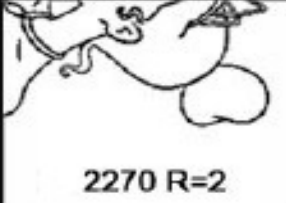



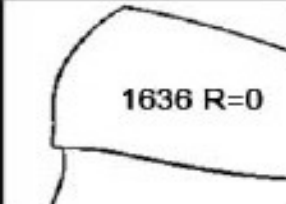


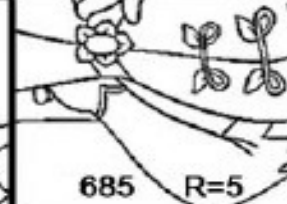


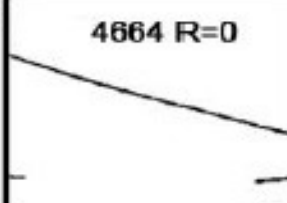
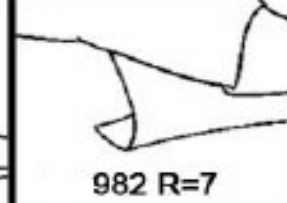
maestra mgabriella

www.tateefate.com

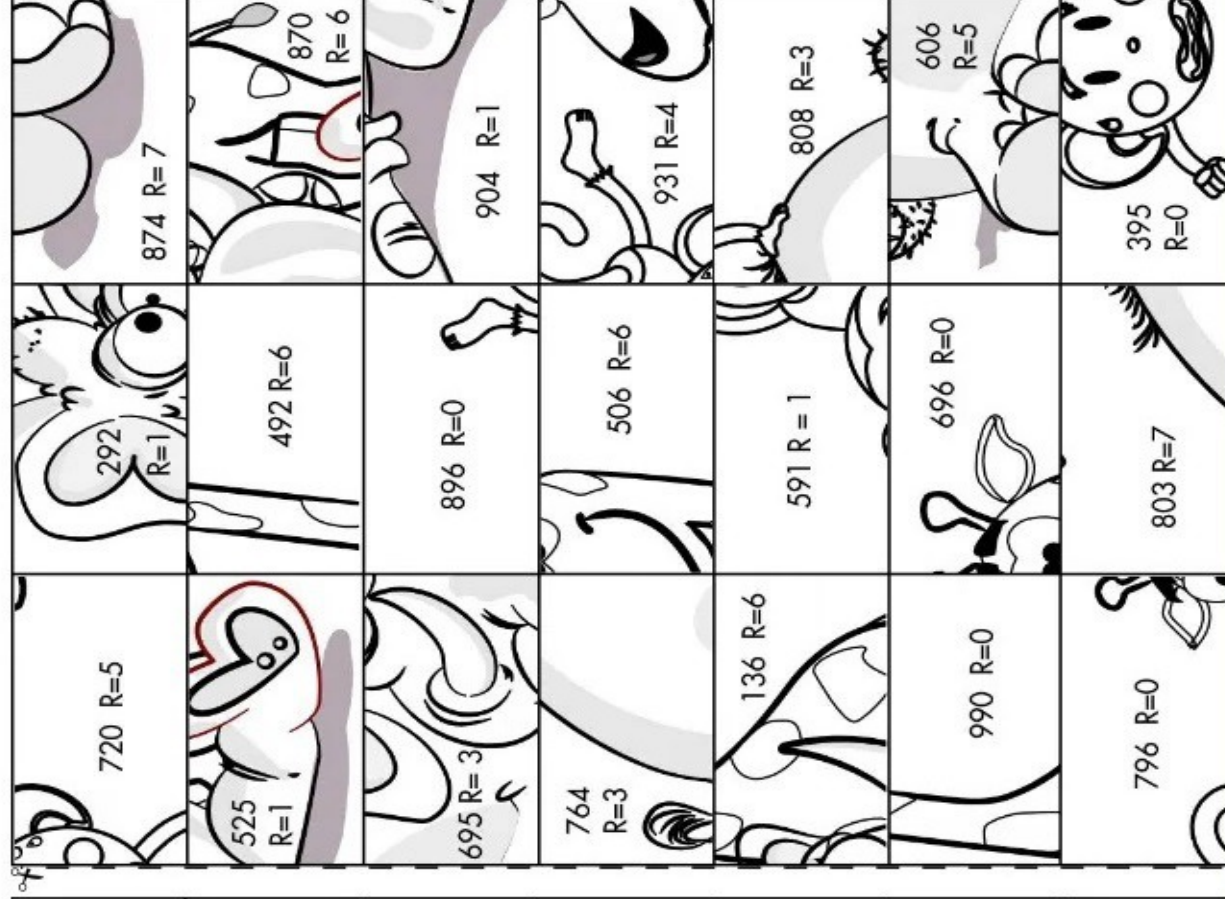
Resto 8: Garrett A.Morgan
Resto 5: Martin Cooper
Resto 3: Charles Strite
Resto 2: Jack Kilby
Resto 4: Konrad Zuse
Resto 1: Ladislao Biro
Resto 6: Thomas Adams
Resto 7: Alva J. Fischer



4 9 0 8 3	9 3 2 8 2	8 6 2 3 2	1 7 8 5 6
7 2 2 7 3	1 0 1 4 7	6 5 3 3 5	6 8 1 2 3
4 8 4 7 7	6 4 2 7 4	9 8 4 8 9	3 1 4 1 6
6 5 1 3 2	7 8 6 3 8	6 1 7 0 9	5 7 1 5 5

 692 R=3	 523 R=3	 1094 R=2	 1606 R=3
 2270 R=2	 2409 R=0	 1306 R=3	 C=144 R=6
 1636 R=0	 297 R=3	 4311 R=1	 685 R=5
 3256 R=1	 1143 R=0	 4664 R=0	 982 R=7

2688 : 3	3980 : 5	2784 : 4
4729 : 8	7452 : 8	3548 : 7
2370 : 6	6485 : 9	3450 : 7
6431 : 8	3235 : 4	5940 : 6
3823 : 5	2045 : 7	1230 : 9
3641 : 6	2783 : 4	7836 : 9
6999 : 8	3617 : 4	2626 : 5





Grazie a questo esercizio divertente
 lo sto ammirando uno spettacolo davvero
 molto coinvolgente!!!
 Vuoi farne parte anche tu?
 Esegui le **DIVISIONI**, scrivi il quoziente dopo
 la freccia e il **RESTO**.
Colora come ti viene richiesto :
 io ti aspetto!!!

Tutto ciò che non corrisponde ai risultati sarà azzurro

Usa il nero

$4.748 : 5 \blacktriangleright$	R=	$1.045 : 2 \blacktriangleright$	R=	$7.609 : 6 \blacktriangleright$	R=
$7.267 : 9 \blacktriangleright$	R=	$3.886 : 2 \blacktriangleright$	R=	$5.316 : 6 \blacktriangleright$	R=
$7.721 : 6 \blacktriangleright$	R=	$4.188 : 3 \blacktriangleright$	R=	$8.484 : 8 \blacktriangleright$	R=
$8.938 : 5 \blacktriangleright$	R=	$6.743 : 9 \blacktriangleright$	R=	$5.684 : 7 \blacktriangleright$	R=

Lascia in bianco

$3031 : 8 \blacktriangleright$	R=	$2.942 : 9 \blacktriangleright$	R=
--------------------------------	----	---------------------------------	----

